



Università di Pisa

Ammissione al Corso di Laurea in Scienze e Tecniche di Psicologia clinica e sperimentale



C00001

1 Qual è l'unica istituzione europea a essere eletta direttamente dai suoi cittadini?

- A Il Parlamento Europeo
- B Il Consiglio dell'Unione Europea
- C La Commissione Europea
- D La Corte di giustizia dell'Unione Europea

C00002

2 Secondo la Costituzione italiana, oltre a Sicilia, Valle d'Aosta e Trentino-Alto Adige, quali tra le seguenti sono Regioni a statuto speciale?

- A Friuli Venezia Giulia e Sardegna
- B Sardegna e Molise
- C Basilicata e Calabria
- D Veneto e Friuli Venezia Giulia

C00003

3 In quale dei seguenti Stati si trova la catena montuosa dei Pirenei?

- A Francia
- B Austria
- C Grecia
- D Portogallo

C00004

4 In quale Regione si trova la città di Pescara?

- A Abruzzo
- B Puglia
- C Campania
- D Molise

C00005

5 Quale delle seguenti opere è stata scritta da Lev Tolstoj?

- A Anna Karenina
- B Le anime morte
- C Delitto e castigo
- D Ragione e sentimento

C00006

6 Quale tra i seguenti scrittori può essere considerato un precursore dell'Umanesimo?

- A Francesco Petrarca
- B Dante Alighieri
- C Angelo Poliziano
- D Giangiorgio Trissino

7 **Quale fu il leader democristiano che assunse la guida del governo tra il 1945 e il 1953?**

- A** Alcide De Gasperi
- B** Aldo Moro
- C** Amintore Fanfani
- D** Giulio Andreotti

8 **Nel 1949 venne firmato il Patto Atlantico. In quale anno l'URSS e i Paesi europei del blocco sovietico firmarono il Patto di Varsavia?**

- A** Nel 1955
- B** Nello stesso 1949
- C** Nel 1960
- D** Nel 1969

9 **Un contrario di "perseverare" è:**

- A** desistere
- B** perdere
- C** conservare
- D** sfumare

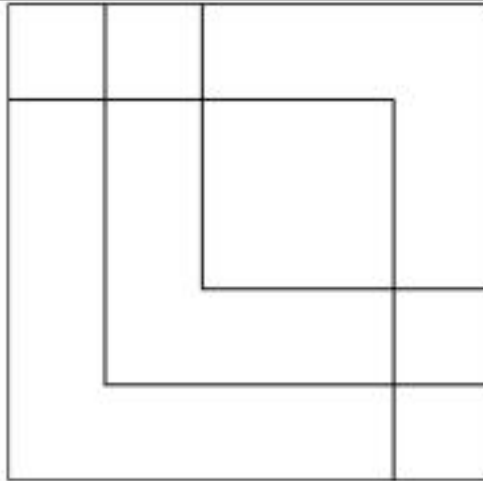
10 **Che cosa significa "ginepraio"?**

- A** Terreno ingombro di ginepri; situazione intricata
- B** Luogo riservato alle donne
- C** Tipo di grappa aromatica
- D** Esercizio ginnico

11 **Un gioco ha le seguenti regole: se un numero è divisibile per 3 vale 8 punti; se è divisibile per 7 vale 6 punti. In base a tali regole, quale dei seguenti numeri vale di più?**

- A** 39
- B** 56
- C** 37
- D** 41

FIGURA TU 23



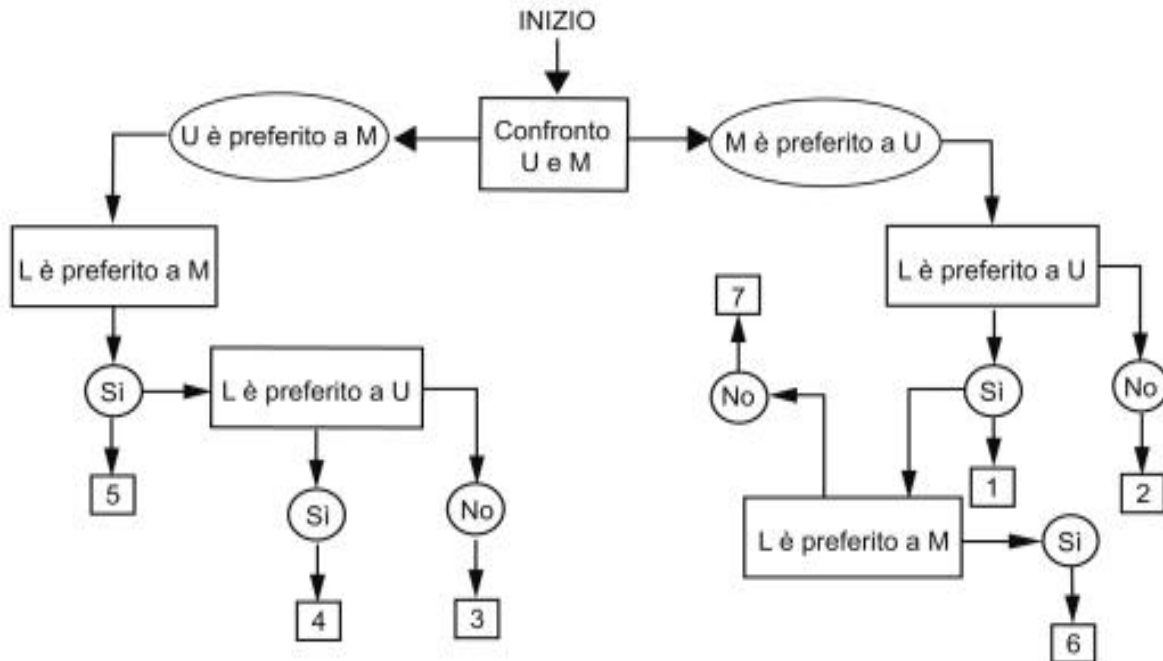
12 Rispondere al seguente quesito facendo riferimento alla FIGURA TU 23
 Quanti sono i quadrati nella figura?

C00012

- A** 9
- B** 8
- C** 10
- D** 7

DIAGRAMMA SZ 11

All'esame di Stato, Marco dovrà presentare una tesi che coinvolga tutte le materie di studio. Decide di iniziare il lavoro seguendo le sue preferenze. Il confronto avviene valutando a due a due tre discipline, giudicandone sempre una come preferita all'altra e mai due come ugualmente preferite. L'obiettivo quindi è stabilire un ordine di preferenza. U = discipline umanistiche, M = discipline matematiche, L = discipline linguistiche.

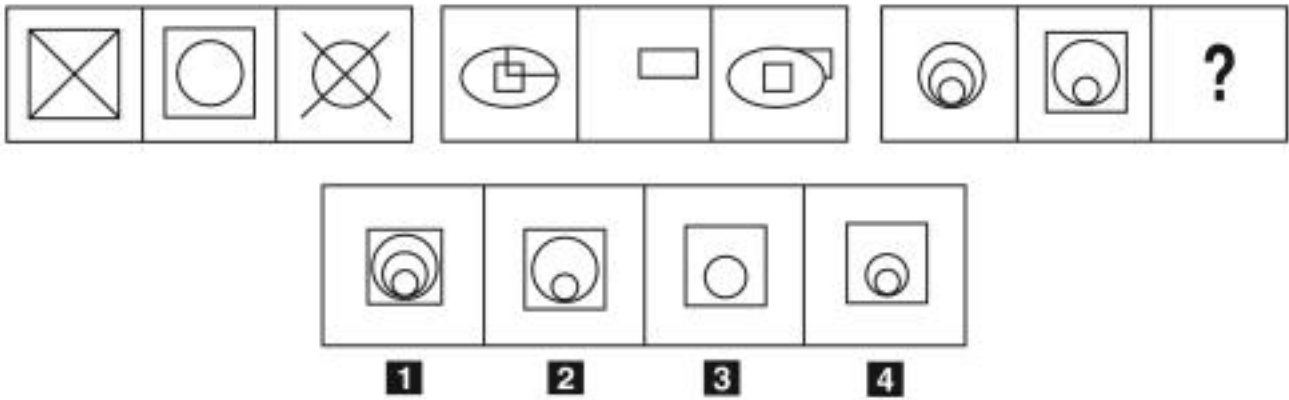


13 Rispondere al seguente quesito facendo riferimento al DIAGRAMMA SZ 11
 Indicare l'ordine di preferenza risultante alla casella "3" del diagramma.

C00013

- A** ULM
- B** MUL
- C** LUM
- D** È possibile più di un ordine

FIGURA SU 48

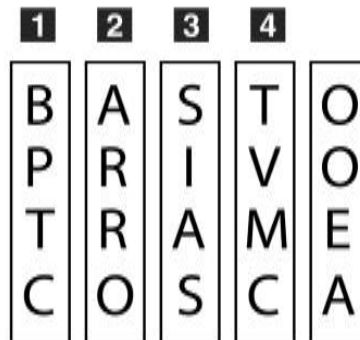


- 14 Rispondere al seguente quesito facendo riferimento alla FIGURA SU 48
Individuare la figura che completa la serie.

C00014

- A** Figura 3
- B** Figura 2
- C** Figura 1
- D** Figura 4

FIGURA SY 21

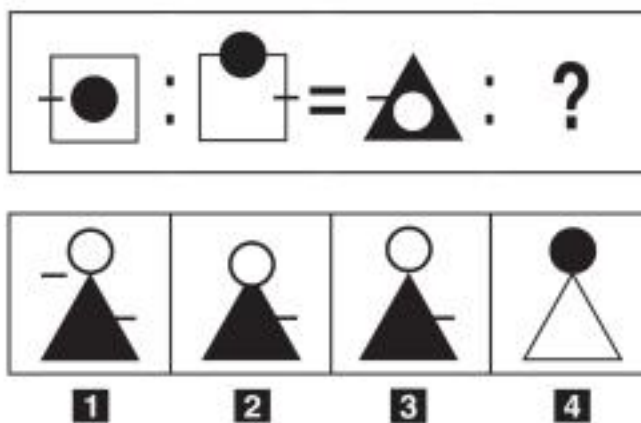


- 15 Rispondere al seguente quesito facendo riferimento alla FIGURA SY 21
Quale dei tasselli verticali dev'essere capovolto (disponendo le sue lettere in ordine inverso rispetto all'attuale) se si desiderano ottenere altre parole di senso compiuto in tutte le righe?

C00015

- A** Il 4
- B** L'1
- C** Il 2
- D** Il 3

FIGURA SP 69

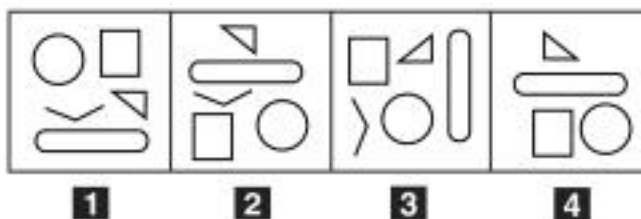


- 16 Rispondere al seguente quesito facendo riferimento alla FIGURA SP 69
Individuare la figura che completa la serie.

C00016

- A** Figura 2
- B** Figura 4
- C** Figura 1
- D** Figura 3

FIGURA SS 26



- 17 Rispondere al seguente quesito facendo riferimento alla FIGURA SS 26
Individuare la figura da scartare.

C00017

- A** Figura 4
- B** Figura 1
- C** Figura 3
- D** Figura 2

DIAGRAMMA RY 00

Individuare la relazione insiemistica esistente tra i termini dati.



DIAGRAMMA 1



DIAGRAMMA 2



DIAGRAMMA 3



DIAGRAMMA 4



DIAGRAMMA 5



DIAGRAMMA 6

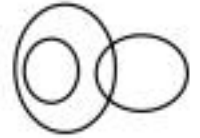


DIAGRAMMA 7

18 Rispondere al seguente quesito facendo riferimento al DIAGRAMMA RY 00
Uomini, Deputati, Senatori

C00018

- A** Diagramma 3
- B** Diagramma 5
- C** Diagramma 1
- D** Diagramma 2

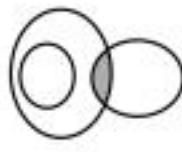
DIAGRAMMA RY 02



RELAZIONE 1



RELAZIONE 2



RELAZIONE 3



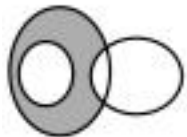
RELAZIONE 4



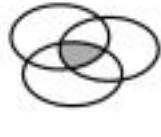
RELAZIONE 5



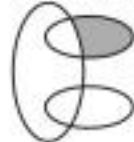
RELAZIONE 6



RELAZIONE 7



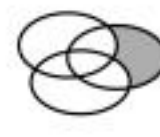
RELAZIONE 8



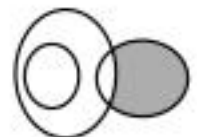
RELAZIONE 9



RELAZIONE 10



RELAZIONE 11



RELAZIONE 12

19 Rispondere al seguente quesito facendo riferimento al DIAGRAMMA RY 02

C00019

I tre termini "Numeri compresi tra 5 e 8, Numeri compresi tra 4 e 15, Numeri compresi tra 12 e 22" sono legati da una relazione insiemistica. All'interno di questa relazione, "14" si trova nella parte annerita della:

- A** relazione 3
- B** relazione 12
- C** relazione 4
- D** relazione 2

$$3 \square \sqrt{16} \square 9 \square 5^2 \square 10$$

- 20 Rispondere al seguente quesito facendo riferimento alla FIGURA TN 13 C00020
Svolgendo le operazioni nell'ordine di presentazione, quali operatori matematici devono essere inseriti all'interno dei quadratini affinché l'espressione così ottenuta dia come risultato 1?
- A** + + - +
 - B** - - + +
 - C** + - + -
 - D** - + - +
-
- 21 Per eseguire un trasloco 12 operai impiegano 3 ore. Quanto tempo impiegheranno 9 operai a effettuare lo stesso trasloco? C00021
- A** 4 ore
 - B** 6 ore
 - C** 4,5 ore
 - D** 5 ore
-
- 22 In un gruppo di 56 persone si trovano 42 laureati. Quale percentuale di persone del gruppo è costituita da NON laureati? C00022
- A** 25%
 - B** 15%
 - C** 50%
 - D** 75%
-
- 23 In una scatola ci sono 3 palline verdi, 5 palline gialle e 2 palline rosse. Qual è la probabilità di estrarre a caso una pallina verde o una gialla? C00023
- A** 4/5
 - B** 7/10
 - C** 1/2
 - D** 2/5

- 24 Una libreria ha 6 ripiani; disponendo 21 libri per ripiano, si occupano interamente solo i primi 4 ripiani. Se si volesse occupare tutta la libreria, invece, quanti libri bisognerebbe disporre su ogni ripiano facendo in modo che il numero di libri per ripiano sia lo stesso?
- A** 14
 - B** 16
 - C** 15
 - D** 17

- 25 Sul palco ci sono 5 musicisti. I musicisti 1 e 4 suonano la chitarra, gli altri suonano delle percussioni. I musicisti 2 e 5 indossano un cappello. I musicisti 1-3-5 leggono lo spartito, mentre gli altri improvvisano. Quale musicista indossa un cappello e suona le percussioni improvvisando?
- A** Il musicista 2
 - B** Nessun musicista
 - C** Il musicista 3
 - D** Il musicista 5

- 26 L'autobus 59 effettua un tragitto che conta, complessivamente, 10 fermate compresi i due capolinea. Sapendo che, al momento della partenza, sull'autobus erano presenti 12 persone e che a ogni fermata (esclusi i capolinea) sono saliti 5 nuovi passeggeri e ne sono scesi 2, quanti passeggeri sono arrivati al secondo capolinea?
- A** 36
 - B** 37
 - C** 30
 - D** 26

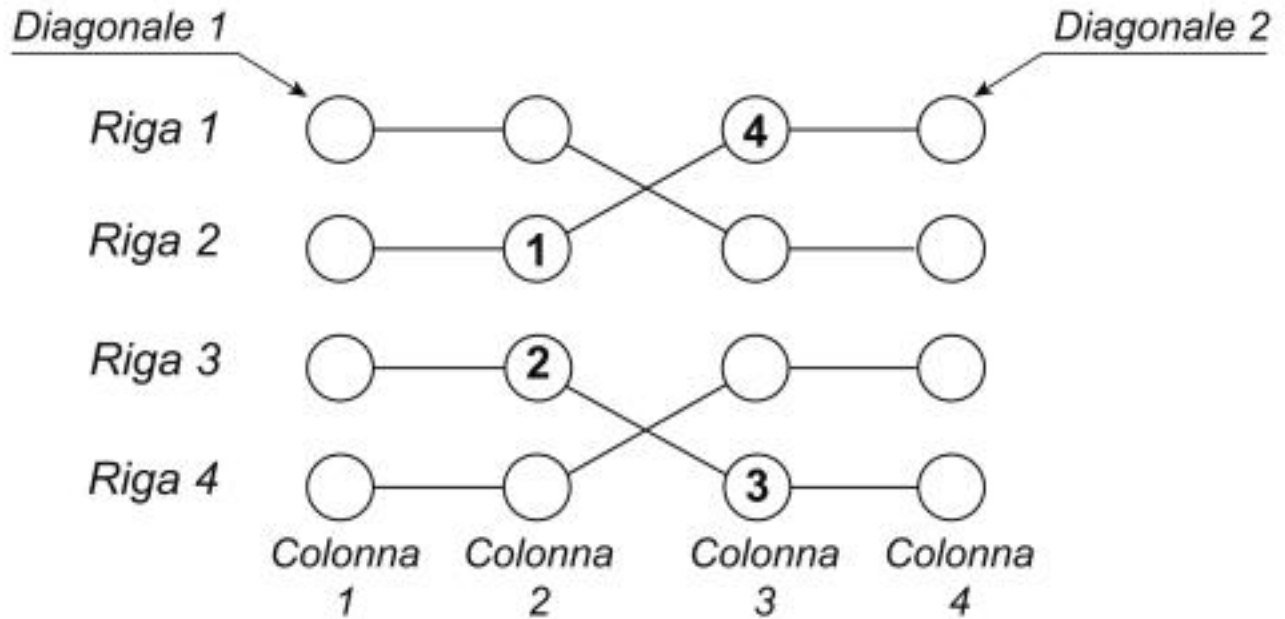
- 27 Per aprire un lucchetto a combinazione composta da tre lettere diverse tra loro, Diego deve individuare la combinazione corretta seguendo le seguenti istruzioni:
- CAG:** una lettera è corretta e si trova nella corretta posizione;
- CHE:** una lettera è corretta ma non si trova nella posizione corretta;
- GIC:** due lettere sono corrette ma non sono nella posizione corretta;
- BFA:** tutte le lettere sono errate;
- FAI:** una lettera è corretta ma non si trova nella posizione corretta.
- Seguendo le istruzioni fornite, qual è la combinazione corretta per aprire il lucchetto?
- A** IEG
 - B** ICE
 - C** CEG
 - D** FGE

FIGURA SX 70

La griglia 4 x 4 contiene solo numeri da 1 a 4 e per essere riempita con i numeri mancanti è necessario seguire tre semplici regole:

- 1) ogni riga deve contenere differenti numeri;
- 2) ogni colonna deve contenere differenti numeri;
- 3) ogni "flusso" collegato dai segmenti deve contenere differenti numeri.

Le diagonali invece non necessariamente devono rispettare le regole sopra esposte.



- 28 Rispondere al seguente quesito facendo riferimento alla FIGURA SX 70 C00028
 Individuare l'alternativa che rappresenta la corretta sequenza di numeri della Colonna 4, riportati dal basso verso l'alto.
- A** 1-3-4-2
 - B** 2-4-3-1
 - C** 1-2-3-4
 - D** 1-4-2-3

- 29 C00029
 "Prima di andare al ristorante, Fausto deve avvisare sua madre". Se l'argomentazione precedente è vera, quale delle seguenti è certamente vera?
- A** Se Fausto va al ristorante, allora ha avvisato sua madre
 - B** Se Fausto avvisa sua madre, allora andrà al ristorante
 - C** Se Fausto non va al ristorante, allora non ha avvisato sua madre
 - D** Se Fausto va al ristorante, allora non ha avvisato sua madre

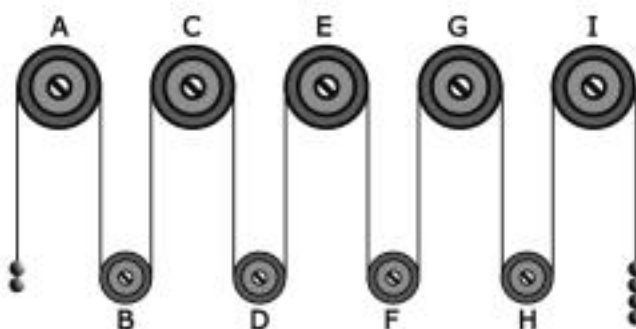
- 30 C00030
 Andrea arriva in aeroporto a Roma e osserva i seguenti dati: I) l'aereo in arrivo da Milano per Praga atterra a Roma alle 12.00 e riparte alle 12.30; II) l'aereo che va a Stoccolma parte 90 minuti dopo quello che va a Berlino, che parte alle 12.00; III) 40 minuti prima del volo per Stoccolma parte l'aereo per Madrid e, 10 minuti dopo quest'ultimo, quello per Lisbona. In base alle informazioni precedenti, l'aereo che va a Lisbona parte:
- A** un'ora dopo quello per Berlino
 - B** un'ora prima di quello per Stoccolma
 - C** 30 minuti dopo quello per Berlino
 - D** alla stessa ora di quello per Praga

- 31 Un liceo ha una piccola sala di proiezione interna riservata agli studenti con solo cinque file di sedili. Cinque alunne (Daniela, Annalisa, Marzia, Claudia e Viviana) siedono ognuna in una fila diversa. Guardando la sala dallo schermo, Marzia si trova tre file indietro rispetto a Viviana, che non occupa un posto in prima fila. Claudia, invece, siede tre file avanti rispetto a Daniela. In base alle precedenti affermazioni si può dedurre con certezza che, guardando dallo schermo:
- A** Annalisa è seduta nella fila immediatamente davanti a quella dove siede Daniela
 - B** Claudia è seduta nella fila immediatamente dietro a quella dove siede Viviana
 - C** Marzia è seduta in quarta fila
 - D** Daniela è seduta nella fila immediatamente dietro a Marzia

- 32 "Chi va al cinema mangia i pop corn. Tutti i giovani mangiano i pop corn. Roberto va al cinema". Se le precedenti affermazioni sono vere, quale delle seguenti è necessariamente vera?
- A** Roberto mangia i pop corn
 - B** Roberto è giovane
 - C** Chi mangia i pop corn va al cinema
 - D** Chi va al cinema è giovane

FIGURA SU 14

Il sistema indicato in figura si presenta nella sua fase iniziale con sfere di metallo tutte della stessa massa e fune di massa trascurabile.



- 33 Rispondere al seguente quesito facendo riferimento alla FIGURA SU 14
- Se il sistema è sottoposto soltanto al campo gravitazionale con assenza di attrito, allora si può concludere che:
- A** la carrucola G gira in senso orario
 - B** la carrucola B gira in senso orario
 - C** la carrucola A gira in senso antiorario
 - D** il sistema resta fermo perché in equilibrio

FIGURA SU 11

Un'asse graduata di legno è appoggiata su un perno nel suo punto medio e su di essa sono sistemati alcuni gettoni, tutti di peso uguale.



- 34 Rispondere al seguente quesito facendo riferimento alla FIGURA SU 11
Per equilibrare il sistema in figura è necessario spostare un gettone:

C00034

- A** dalla posizione 10 alla posizione 12
- B** dalla posizione 4 alla posizione 5
- C** dalla posizione 10 alla posizione 11
- D** nessuna delle altre alternative è corretta: l'asse è già in equilibrio

BRANO MA 98

Leggere il testo del seguente problema.

Ciascuno dei quattro amici Gabriele, Federico, Alessandro e Luca risulta vincitore in una delle quattro diverse specialità in un trofeo di nuoto (stile libero, rana, farfalla, dorso, non necessariamente in quest'ordine). Ciascuno di loro possiede un accappatoio di colore diverso (blu, rosso, azzurro, nero, non necessariamente in quest'ordine). Si sa che:

- 1) alla fine della sua gara, Gabriele indossa il suo accappatoio blu;
- 2) colui che possiede l'accappatoio rosso ha vinto la gara nella specialità farfalla;
- 3) Alessandro ha vinto la gara a stile libero;
- 4) Luca non possiede l'accappatoio azzurro e non è vincitore nella specialità farfalla;
- 5) l'accappatoio nero è del nuotatore che ha vinto nella specialità dorso.

- 35 Rispondere al seguente quesito facendo riferimento al BRANO MA 98
Quale delle seguenti affermazioni è FALSA?

C00035

- A** Gabriele è vincitore nella specialità dorso e possiede l'accappatoio blu
- B** Alessandro è vincitore nella specialità stile libero e possiede l'accappatoio azzurro
- C** Luca possiede l'accappatoio nero
- D** Federico possiede l'accappatoio rosso

- 36 Rispondere al seguente quesito facendo riferimento al BRANO MA 98
Chi possiede l'accappatoio azzurro?

C00036

- A** Alessandro
- B** Gabriele
- C** Luca
- D** Federico

-
- 37 Rispondere al seguente quesito facendo riferimento al BRANO MA 98 C00037
Chi risulta vincitore nella specialità rana?
A Gabriele
B Luca
C Alessandro
D Federico
-
- 38 Rispondere al seguente quesito facendo riferimento al BRANO MA 98 C00038
Quale dei quattro amici risulta vincitore nella specialità farfalla?
A Federico
B Gabriele
C Luca
D Alessandro
-
- 39 Rispondere al seguente quesito facendo riferimento al BRANO MA 98 C00039
In quale specialità risulta vincitore Luca?
A Dorso
B Rana
C Farfalla
D Stile libero
-
- 40 Completare correttamente la successione seguente: 11; 7; 22; 21; 44; ?; ?; 189; 176 C00040
A 63; 88
B 42; 88
C 63; 66
D 28; 55
-
- 41 La bile è prodotta: C00041
A dal fegato
B dallo stomaco
C dal duodeno
D dal pancreas
-
- 42 Qual è la funzione principale dei globuli rossi? C00042
A Trasporto di ossigeno
B Coagulazione del sangue
C Trasporto di sostanze nutritive
D Difesa da alcune malattie

43 Che tipo di sangue può essere trasfuso a un individuo di gruppo sanguigno A?

- A** A e 0
- B** Solo A
- C** Tutti
- D** Solo 0

44 Che cos'è un neurotrasmettitore?

- A** Una sostanza che consente ai neuroni di scambiarsi informazioni
- B** Un farmaco che modula la velocità di conduzione assonale del potenziale d'azione
- C** Un segnale elettrico a carattere tutto o niente
- D** Un device elettronico che permette di trasmettere a un computer l'attività neurale

45 Per "fagocitosi" si intende:

- A** il processo biologico mediante il quale le cellule inglobano e digeriscono particelle solide
- B** un trasporto attraverso la membrana cellulare operato da vettori proteici
- C** un particolare tipo di degenerazione cellulare
- D** l'ingestione da parte della cellula di fluidi attraverso piccole vescicole

46 I mitocondri sono definiti "centrale energetica della cellula" perché in essi:

- A** avviene la respirazione cellulare
- B** si consumano atomi di idrogeno
- C** si ossida il glucosio
- D** avvengono tutte le reazioni metaboliche

47 Un enzima:

- A** aumenta la velocità di una reazione
- B** si inattiva dopo la catalisi
- C** sposta l'equilibrio di una reazione
- D** rende possibili reazioni termodinamicamente sfavorevoli

48 La fase di mitosi è costituita, a sua volta, da una serie di fasi. Individuare la sequenza corretta.

- A** Profase, metafase, anafase, telofase
- B** Metafase, anafase, telofase, profase
- C** Anafase, metafase, profase, telofase
- D** Telofase, profase, anafase, metafase

49 **Quale cellula si caratterizza per la presenza della parete cellulare?**

- A** La cellula vegetale
- B** La cellula animale
- C** La cellula animale appartenente all'epitelio di rivestimento
- D** Il virus

50 **L'uomo, animale a sangue caldo, è un:**

- A** omeotermo
- B** eterotermo
- C** allotermo
- D** sintermo

51 **Un'alterazione ereditaria del patrimonio genetico è detta:**

- A** mutazione
- B** selezione naturale
- C** traduzione
- D** trascrizione

52 **Le strutture delle cellule nelle quali hanno sede le informazioni genetiche di un organismo si chiamano:**

- A** cromosomi
- B** organi
- C** filamenti
- D** ribosomi

53 **I batteri si riproducono per:**

- A** scissione binaria
- B** meiosi
- C** mitosi
- D** coniugazione

54 **Quale delle seguenti affermazioni identifica una vitamina?**

- A** È una sostanza che deve essere introdotta con gli alimenti
- B** È sintetizzata solo nel fegato
- C** È un alimento a elevato contenuto energetico
- D** È un farmaco

55

Qual è la funzione del muscolo diaframma?

- A** Permette i movimenti della gabbia toracica collegati alla respirazione
- B** Funge da adduttore della gamba
- C** Avvolge e protegge l'intestino
- D** Avvolge i polmoni e impedisce che si dilatino eccessivamente durante la respirazione

56

Nel corpo umano, quale dei seguenti NON è un osso?

- A** L'epiglottide
- B** La vertebra
- C** La costola
- D** La falange

57

Le piante sono organismi:

- A** autotrofi
- B** isotermi
- C** eterotrofi
- D** omeotermi

58

Per "ecosistema" si intende:

- A** un luogo caratterizzato da determinati organismi che interagiscono tra di loro e con il loro ambiente
- B** l'insieme di tutti gli individui di una specie soprattutto nelle zone equatoriali
- C** i fattori fisici e chimici di un ambiente, influenzati dalla latitudine
- D** l'insieme delle popolazioni che occupano un dato territorio

59

Che cos'è la bulimia?

- A** Un disturbo del comportamento alimentare
- B** Un disturbo cognitivo
- C** Un disturbo affettivo
- D** Una forma di disagio psicosociale

60

L'intolleranza a quale delle seguenti sostanze causa la celiachia?

- A** Glutine
- B** Sale
- C** Lattosio
- D** Lievito

- 61 Per Agostino il male è:
- A** privazione di essere
 - B** privazione di non essere
 - C** privazione di libertà
 - D** privazione di volontà

- 62 *"Sapiente è soltanto chi sa di non sapere"* è una frase di:
- A** Socrate
 - B** Platone
 - C** Freud
 - D** Eraclito

- 63 La teoria della metempsicosi è stata elaborata dai pitagorici e afferma che l'anima:
- A** torna a incarnarsi dopo la morte del corpo, seguendo il destino che si è costruita durante la vita
 - B** non torna a incarnarsi dopo la morte del corpo
 - C** torna a incarnarsi dopo la morte del corpo, indipendentemente dalle azioni compiute durante la vita
 - D** torna a incarnarsi dopo la morte del corpo senza potersi mai purificare e uscire dal ciclo delle reincarnazioni

- 64 Secondo Hegel l'autocoscienza è:
- A** la scoperta della propria socialità
 - B** il pensiero puro
 - C** la dimensione del conflitto
 - D** la realtà del concetto

- 65 A quale corrente filosofica è associabile la riflessione di Bertrand Russell?
- A** Filosofia del linguaggio
 - B** Illuminismo
 - C** Post-modernità
 - D** Romanticismo

- 66 Secondo Friedrich Nietzsche il nichilismo è:
- A** ciò che subentra di necessità quando abbiamo cercato nell'accadere un senso che in esso non c'è
 - B** il dominio della morale
 - C** la distruzione della metafisica
 - D** il destino dell'Oriente

67 **Quale tra i seguenti filosofi può essere annoverato all'interno dell'esistenzialismo?**

- A** Martin Heidegger
- B** Max Scheler
- C** William James
- D** Rudolf Carnap

68 **"Per mezzo dell'arte l'uomo si libera per un istante di ogni desiderio, annulla il dolore che porta con sé e si apre alla contemplazione disinteressata delle idee". Questo pensiero è un aspetto caratterizzante della riflessione filosofica di:**

- A** A. Schopenhauer
- B** S. Kierkegaard
- C** K. Marx
- D** S. Freud

69 **Spazio e tempo, nel pensiero di Kant, sono:**

- A** forme pure dell'intuizione sensibile
- B** conoscenze sensibili
- C** costitutivi dell'oggetto
- D** derivati della "cosa in sé"

70 **Il Positivismo è:**

- A** un movimento filosofico e culturale nato in Francia nella prima metà dell'Ottocento
- B** un movimento filosofico nato negli Stati Uniti nei primi anni del Novecento
- C** una corrente filosofica che si oppone all'Esistenzialismo e che si sviluppa negli anni '40-'50 del Novecento
- D** un orientamento filosofico nato nella prima metà del Novecento nell'ambito del Circolo di Vienna

Leggere il brano e rispondere a ogni quesito solo in base alle informazioni contenute (esplicitamente o implicitamente) nel brano e non in base a quanto il candidato eventualmente conosca sull'argomento.

Noi sappiamo che la memoria opera una scelta tra le varie impressioni che le si offrono e perciò siamo costretti a supporre che tale scelta si effettui durante l'infanzia in base a criteri diversi che nell'età adulta. I ricordi d'infanzia indifferenti derivano da un processo di spostamento; essi costituiscono la riproduzione sostitutiva di altre impressioni, effettivamente importanti, la cui esistenza è dimostrata dall'analisi ma la cui riproduzione diretta è ostacolata da una resistenza. Perciò, visto che la loro sopravvivenza non è dovuta al loro contenuto, ma a un nesso associativo tra questo contenuto e un altro, rimosso, è giustificata la definizione di "ricordi di copertura" con cui io li designo. Nell'articolo cui accennavo io, mi sono limitato a sfiorare tutta la molteplicità e la varietà dei nessi e dei significati dei ricordi di copertura, senza assolutamente esaurire l'argomento. Attraverso la minuziosa analisi di un esempio di questo tipo, ho messo in rilievo una particolarità delle relazioni temporali tra il ricordo di copertura e il contenuto sottostante. Nel caso di cui si trattava, il ricordo di copertura apparteneva ai primissimi anni dell'infanzia, mentre le idee rivissute in esso, sostituite nella memoria e rimaste quasi inconse, si ricollegavano a un periodo posteriore della vita del soggetto. Ho definito regressivo e retrospettivo questo tipo di spostamento. Ancora più frequente è il caso inverso, in cui un'impressione indifferente di un periodo posteriore si fissa nella memoria come ricordo di copertura solo perché collegato a un evento anteriore la cui riproduzione diretta è ostacolata da determinate resistenze. Questi sono i ricordi di copertura progredienti o spostati in avanti. In essi la cosa che effettivamente interessa la memoria è anteriore al ricordo di copertura. C'è poi un terzo caso, in cui il nesso tra il ricordo di copertura e l'impressione coperta è non solo contenutistico, ma anche di contiguità nel tempo: il ricordo di copertura è allora contemporaneo o contiguo. In che proporzione i nostri ricordi d'infanzia rientrano nella categoria dei ricordi di copertura? Che parte hanno nei vari processi intellettuali di natura nevrotica? Sono tutti argomenti che non intendo discutere qui. Io mi propongo semplicemente di dimostrare l'analogia sussistente tra la dimenticanza di nomi con un falso ricordo e la formazione di ricordi di copertura.

(da: Freud, "Psicopatologia della vita quotidiana", Newton&Compton Editori, pp. 393-394).

71 **Rispondere al seguente quesito facendo riferimento al BRANO MB 20** **C00071**

Secondo Freud, la sopravvivenza dei ricordi di copertura dipende:

- A** dal rapporto tra il contenuto del ricordo e il contenuto rimosso
- B** da un processo di spostamento nella memoria dell'adulto
- C** dall'analisi del ricordo, che ne determina i confini
- D** dai ricordi d'infanzia indifferenti

72 **Rispondere al seguente quesito facendo riferimento al BRANO MB 20** **C00072**

Secondo Freud, i ricordi di copertura e il contenuto sottostante hanno una relazione di tipo:

- A** temporale
- B** spaziale
- C** causa – effetto
- D** analitico

73 **Rispondere al seguente quesito facendo riferimento al BRANO MB 20** **C00073**

In questo brano, Freud parla dei ricordi di copertura per associarli:

- A** alla dimenticanza dei nomi con un falso ricordo
- B** ai processi intellettuali di natura nevrotica dell'adulto
- C** alle resistenze operate dalla memoria dell'adulto
- D** alle scelte operate dalla memoria nell'infanzia

74 **Rispondere al seguente quesito facendo riferimento al BRANO MB 20** **C00074**

Nei ricordi di copertura "progredienti" ciò che è stato mantenuto nella memoria:

- A** è anteriore al ricordo di copertura
- B** è posteriore al ricordo di copertura
- C** è contemporaneo al ricordo di copertura
- D** non riguarda il ricordo di copertura

- 75 Rispondere al seguente quesito facendo riferimento al BRANO MB 20 C00075
Secondo Freud, alcuni ricordi importanti della vita di un individuo NON vengono riprodotti in età adulta a causa di:
- A** una resistenza
 - B** un ricordo d'infanzia indifferente
 - C** un processo di spostamento
 - D** una dimenticanza di un nome con un ricordo

BRANO AL 01

Leggere il brano e rispondere a ogni quesito solo in base alle informazioni contenute (esplicitamente o implicitamente) nel brano e non in base a quanto il candidato eventualmente conosca sull'argomento.

Nell'attuale famiglia affettiva, le relazioni tra genitori e figli si basano più sugli affetti che su regole e sanzioni: sono improntate alla protezione e al soddisfacimento dei bisogni più che alla promozione di autonomia e responsabilizzazione. I genitori temono di perdere l'amore dei figli se impongono la propria volontà, faticano a sostare nella conflittualità, con il risultato di un forte ripiegamento su posizioni accondiscendenti, al punto da farli apparire talvolta in balia dei figli.

"Non c'è formazione possibile che non passi attraverso la strettoia del conflitto", scrive Recalcati (*Cosa resta del padre*, Cortina 2011), "se non c'è ostacolo, barriera, alterità, non c'è formazione, trasmissione, desiderio": i figli hanno bisogno di genitori in grado di sostenere il conflitto perché in sua assenza viene a mancare quel fondamentale scarto dato dalla distanza generazionale che è alla base di ogni autentico rapporto educativo. Questo è dunque il senso della provocatoria domanda: se le cose stanno così, sarà ancora possibile l'educazione?

La crisi dell'autorità ha radici profonde e si origina dalla crisi dei valori paterni sulla scena sociale di cui si è cominciato a parlare già all'inizio degli anni Sessanta. La crisi dell'autorità paterna e il venir meno di valori assoluti ampiamente condivisi nella comunità adulta ha trasformato il modello educativo familiare: al tramonto del padre autoritario della famiglia etico-normativa ha fatto seguito un nuovo padre, un padre tollerante, emotivamente vicino, che condivide di buon grado con la madre la cura dei figli. [...] In altre parole, la famiglia affettiva ha preso le distanze dal codice paterno per reggersi principalmente su quello materno, si è cioè appiattita su un unico stile genitoriale orientato alla protezione, alla dipendenza, all'accudimento. [...]

Lo strettissimo legame che caratterizza le prime fasi della relazione madre-bambino, se è essenziale per un sano sviluppo della fiducia di base, deve tuttavia gradualmente allentarsi per consentire al piccolo di uscire dalla simbiosi originaria e potersi individuare come soggetto autonomo.

È proprio la funzione paterna a permettere la separazione del bambino dalla madre, a favorire il passaggio dal principio del piacere – "voglio tutto e subito" – al principio di realtà – "non posso avere tutto", "devo aspettare", "otterrò quello che voglio solo a certe condizioni" – che rende possibile un sano funzionamento della vita psichica.

(Da: *La crisi dei valori paterni*, G. Messetti, Giuntiscuola.it)

- 76 Rispondere al seguente quesito facendo riferimento al BRANO AL 01 C00076
Quale delle seguenti alternative descrive correttamente le caratteristiche dell'attuale famiglia affettiva a cui si fa riferimento nel testo?
- A** I genitori tendono a essere più indulgenti e protettivi nei confronti dei figli per paura di perderne l'affetto
 - B** I genitori cercano di stimolare l'indipendenza e il senso di responsabilità nei figli, ma senza imporre regole e punizioni
 - C** Essa è fortemente conflittuale, dato il contrasto tra la volontà e le regole imposte dai genitori e il senso di indipendenza dei figli
 - D** Essa ha un'impronta autoritaria che deriva dalla sua tradizionale funzione etico-normativa

- 77 Rispondere al seguente quesito facendo riferimento al BRANO AL 01 C00077
In base al contenuto del brano, è possibile dedurre che nella famiglia la funzione paterna:
- A** è quella di mettere ordine nella relazione tra madre e figlio consentendone il distacco e di rappresentare l'autorità
 - B** è superflua, dato che il ruolo educativo e normativo è assunto totalmente dalla madre
 - C** è di tipo repressivo e punitivo, poiché il padre ha da sempre un ruolo autoritario
 - D** si è via via dissolta, lasciando spazio a quella dell'amico e confidente, più efficace nella costruzione di un rapporto sano con i figli

-
- 78 **Rispondere al seguente quesito facendo riferimento al BRANO AL 01** C00078
Quale delle seguenti alternative è FALSA in relazione alla "crisi dell'autorità" citata nel testo?
- A** È un fenomeno in atto all'interno della famiglia e deriva dal conflitto padre-figlio, il cui risultato è un ribaltamento dei ruoli
 - B** Si riferisce alla figura paterna e segna un declino del padre autoritario e il passaggio a una figura più tollerante
 - C** Ha contribuito a modificare il modello educativo familiare tradizionale portando il padre a condividere con la madre la cura dei figli
 - D** Favorisce la nascita di un nuovo modello educativo all'interno della famiglia con uno sbilanciamento educativo sul polo affettivo

-
- 79 **Rispondere al seguente quesito facendo riferimento al BRANO AL 01** C00079
Quale delle seguenti affermazioni è deducibile dal brano?
- A** La formazione dei figli deve passare anche attraverso il conflitto
 - B** La crisi dell'autorità paterna nella famiglia è un fenomeno esclusivamente attuale
 - C** La distanza generazionale è d'ostacolo al processo educativo
 - D** Il padre non deve mai causare l'allentamento della relazione madre-figlio

-
- 80 **Rispondere al seguente quesito facendo riferimento al BRANO AL 01** C00080
In base al contenuto del brano, perché ci si interroga sulla reale capacità della famiglia affettiva di educare i figli?
- A** Perché in essa, orientata più sull'asseccare i bisogni dei figli che sul confronto derivante dallo scarto generazionale tra figli e genitori, viene a mancare un passaggio necessario per l'educazione
 - B** Perché già dagli anni Sessanta la figura paterna attraversa una crisi che porta oggi il padre a essere visto più come un amico e confidente dei figli che come educatore
 - C** Perché in essa, orientata più sul conflitto con i figli che sull'affetto che deriva dallo scarto generazionale, viene a mancare un passaggio necessario per l'educazione
 - D** Perché nella generale crisi dei valori, la figura materna ha assunto oggi il ruolo educativo che per tradizione spettava al padre, non riuscendo però ad assolverlo appieno per via del rapporto simbiotico con il figlio

PASSAGE AE 63

Read the passage and answer the related questions on the basis of its contents and not of any knowledge you might have of its subject.

British children used to play conkers in the autumn when the chestnut trees started to drop their brown nuts. They would select a chestnut, drill a hole in it and thread it onto a string, then swing their conker at that of an opponent until one of them broke. But the game has fallen out of favor. Children spend less time outdoors and rarely have access to chestnut trees. Besides, many schools have banned these games, worried that they might cause injuries or trigger allergies.

That sort of risk-averseness now pervades every aspect of childhood. Playgrounds have all the excitement designed out of them to make them safe. Many governments require parents to supervise children far more closely than in the past. Frank Furedi of the University of Kent, a critical commentator on modern parenting, argues that "allowing children to play unsupervised or leaving them alone is increasingly portrayed as a symptom of irresponsible parenting."

In part, such increased caution is a response to a huge wave of changes. Large-scale urbanization, smaller families, the move of women into the labor market and the digitization of many aspects of life have inevitably changed the way that people bring up their children.

But the child-rearing practices now embraced by affluent parents in many parts of the rich world, particularly in America, go far beyond an adjustment to changes. They amount to a strong bid to ensure that the advantages enjoyed by the parents' generation are passed on to their offspring. Since success in life now turns mainly on education, such parents will do their utmost to provide their children with the schooling and the social skills that will secure access to the best universities and the most attractive jobs.

Children from less advantaged backgrounds, by contrast, often appear before their parents are ready for them. In America 60% of births to single women under 30 are unplanned, and over 40% of children are born outside marriage. And even if those children have two resident parents who are doing their best for them, they are still handicapped by a lack of funds, knowledge and connections. The result, certainly in America, has been to widen already massive social inequalities.

The most promising way to ensure greater equity may be to make early-years education and care more widely available and more affordable, as it is in the Nordics. Some governments are already rethinking their educational priorities, shifting some of their spending to the early years.

(From: "Parenting methods are exacerbating social divisions", in "Conkering inequalities", *The Economist*)

-
- 81 Answer the following question concerning **PASSAGE AE 63** C00081
The conker game is described in the first paragraph of the passage as it represents:
- A** a once popular outdoor child activity which is now gradually disappearing
 - B** a nice and funny way to enjoy the fall season in the open air that should be promoted in the USA
 - C** a healthy activity that all pre-school children should commit to
 - D** a clever way to pick up chestnuts
-
- 82 Answer the following question concerning **PASSAGE AE 63** C00082
According to what is reported in the passage, what do most well off American parents want to secure for their children?
- A** A top-quality education and a good career
 - B** Good manners
 - C** Quality relations and social interaction
 - D** A safe, risk-free environment
-
- 83 Answer the following question concerning **PASSAGE AE 63** C00083
According to Frank Furedi:
- A** modern society tends to condemn parents who are not supervising their children all the time
 - B** modern society tends to praise parents who are overprotective towards their children
 - C** children should sometimes be left home alone so that they can learn how to manage on their own
 - D** as evolved as modern parenting might be, it comes with severe risks people are still unaware of

- 84 **Answer the following question concerning PASSAGE AE 63** C00084
According to the passage, which of the following data on US births can be regarded as correct?
- A** More than half of single mothers under 30 were not actually thinking of having a child
 - B** 50% of parents are not actually married
 - C** 40% of children are born to poor parents and will unlikely afford good quality education
 - D** 50% of parents are not actually living together

- 85 **Answer the following question concerning PASSAGE AE 63** C00085
According to the passage, which of the following statements is FALSE?
- A** Playgrounds are almost no longer used by children nowadays, as they prefer indoor games to outdoor ones
 - B** With their guidelines, governments can influence the way parents educate and supervise their children
 - C** Compared with the past, families are now smaller and many more women work
 - D** Our life is getting more and more digital, thus influencing the way we bring up our offspring

PASSAGE HC 88

Read the passage and answer the related questions on the basis of its contents and not of any knowledge you might have of its subject.

According to cold, hard science, willpower is an unlimited resource. And small habit changes over time can drive big gains in our lives. Willpower is a mind-body response and the active ingredient that allows us to resist short-term temptations in order to meet long-term goals. Stress is the enemy of willpower, so say the latest findings of neuroscientists, psychologists, and life coaches in the field. Inadvertently, threats of terrorism, economic uncertainty, and work-related anxiety have done their share to hijack current society's self control. Simply put, we're living in a time that requires more willpower than ever when it may be harder to come by. Indulgences soothe us, from the after-work cocktail to the weekend shopping spree to excessive Facebook time or that extravagant piece of New York cheesecake. But opting for immediate gratification and having the universe influence our agenda keep long-term goals outside our grasp.

Self-control lives in the pre-frontal cortex of the brain, and behaviors like getting intoxicated regularly, sleep-deprivation, overeating, and garden-variety stress have negative effects on the health of this part of the brain. In fact, it's been posited that one of the reasons for the increase in obesity these days may be that people just aren't sleeping enough and as a result are more inclined to make poor, short-term choices.

Experts suggest that we need to think of self-control as a "muscle", something we can train in order to increase our willpower. Not unlike an athlete, in order to strengthen willpower skills we can make a willpower workout part of a daily regimen for goals like losing weight, saving money, or getting out of debt. And not unlike an athlete in training, exerting the self-control muscle, while difficult in the early stages of the effort, will only grow easier with time and increased resolve.

In addition to more sleep and less stress, breathing-focused meditation for as little as five minutes a day has been proven to increase the size of the pre-frontal cortex as the practice helps us maintain a big-picture view of our life and long-term goals. Another tip is to outsource willpower: enlist family and friends to join you in your goal to give up smoking or get fit. The time has never been better to develop the tools of success that improve our life, and to become the best version we can be as we begin to imagine our future self.

(from: "Willpower: Our Greatest Strength?" from thedailybeast.com)

- 86 **Answer the following question concerning PASSAGE HC 88** C00086
What does the author of the passage mean with the sentence "small habit changes over time can drive big gains in our lives"?
- A** Even tiny efforts of will can give surprisingly good results in the long term
 - B** We can never know what a small change in our life could mean for our future
 - C** It is worth taking the risk of changing our habits every now and then, because they could turn out to be positive for our life standards
 - D** The more insignificant a little change seems to us, the more it is likely to change our life

-
- 87 **Answer the following question concerning PASSAGE HC 88** C00087
Which of the following behaviours could prevent us from strengthening our willpower?
- A** Excessive shopping or spending too much time updating our Facebook profile
 - B** To share a long-term objective with our family and friends
 - C** To sleep well every night
 - D** To set an ultimate goal and work to reach it as our top priority

-
- 88 **Answer the following question concerning PASSAGE HC 88** C00088
Why has it become particularly difficult to keep our willpower solid nowadays?
- A** We're increasingly stressed and under pressure and we thus tend to soothe ourselves to relax a little bit
 - B** We are terrified by the threats of terrorism and financial difficulties
 - C** We usually work too much
 - D** We find it difficult to have a purpose justifying everyday sacrifices

-
- 89 **Answer the following question concerning PASSAGE HC 88** C00089
According to what stated in the text, what could happen if we repeatedly treated ourselves to many indulgences?
- A** The health conditions of an area of our brain would worsen
 - B** The size of our brain's frontal cortex would increase
 - C** We would completely lose control of our brain
 - D** We would get intoxicated

-
- 90 **Answer the following question concerning PASSAGE HC 88** C00090
According to the author, willpower can be compared to a muscle for different reasons. One of the following is NOT reported by the text, which one?
- A** We can control it only to some extent
 - B** It must be trained in order to give its best
 - C** The more we strengthen it, the better it will work
 - D** We must do something every day in order to keep it active

